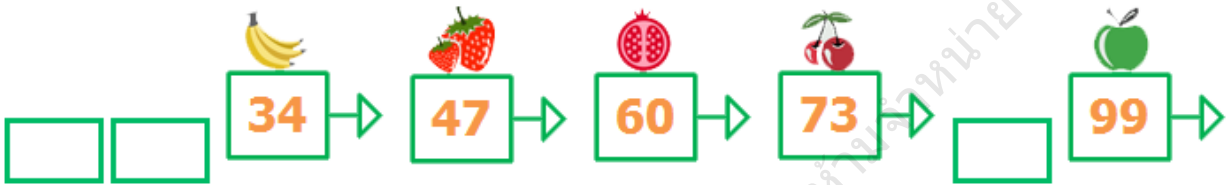


โจทย์: นับเพิ่มครั้งละเท่าๆกัน แล้วใส่ตัวเลขลงไปในกลุ่มเปล่า

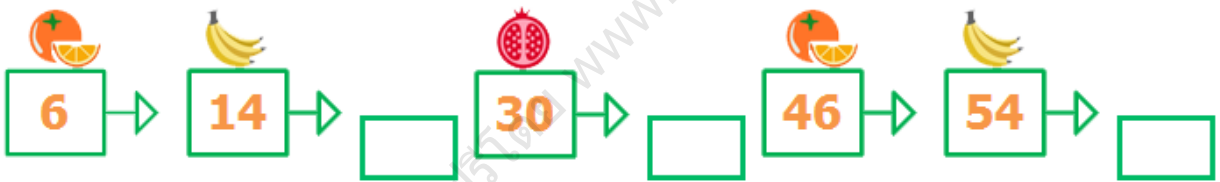
ข้อ 1



ข้อ 2



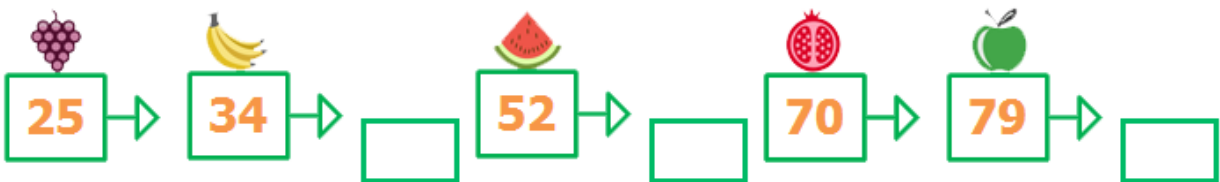
ข้อ 3



ข้อ 4



ข้อ 5



โจทย์: นับเพิ่มครั้งละเท่าๆกัน แล้วใส่ตัวเลขลงไปในกลุ่มเปล่า

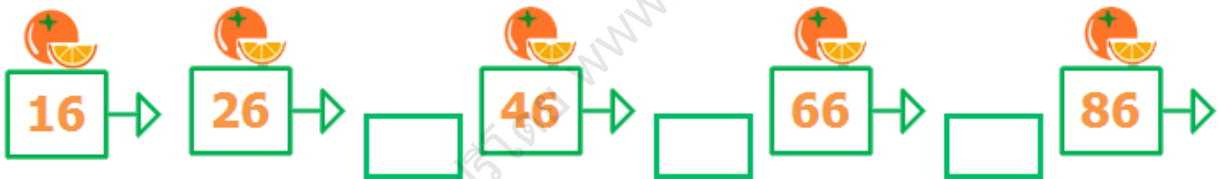
ข้อ 6



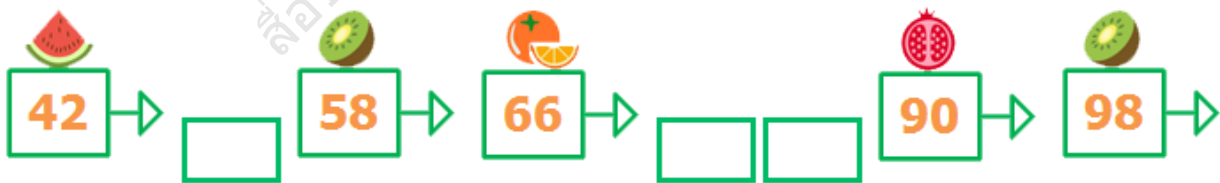
ข้อ 7



ข้อ 8



ข้อ 9



ข้อ 10

